



## CONHECIMENTOS ESPECÍFICOS

1) No que ministra o art. 6º da lei Federal 12796/13, é dever dos pais ou responsáveis efetuar a matrícula das crianças na educação básica a partir dos:

- A) 3 anos de idade
- B) 6 anos de idade
- C) 5 anos de idade
- D) 4 anos de idade.

2) O artigo 18-A do Estatuto da Criança e do Adolescente é de particular relevância para os educadores porque aborda a questão de forma como os diversos responsáveis pelo cuidado e pela educação da criança devem agir em relação a ela. Assim esse artigo determina-se que:

- A) O uso de castigo físico é admissível unicamente para a correção de comportamentos extremamente indisciplinados.
- B) Qualquer pessoa, a qualquer pretexto, não tem direito de utilizar castigo físico contra a criança.
- C) As proibições elencadas nesse artigo não se aplicam aos pais ou responsáveis legais pela criança.
- D) O tratamento degradante da criança poderá ser relevado se o praticante apresentar a devida justificativa à autoridade competente.

3) Quanto ao Projeto Político-Pedagógico, é INCORRETO afirmar que:

- A) Deve ser democrático.
- B) Precisa ser construído coletivamente.
- C) Confere identidade à escola.
- D) Mostra-se abrangente e imutável.

4) Segundo o Estatuto da Criança e do Adolescente (Lei 8.069/90), é considerado criança:

- A) a pessoa até seis anos incompletos de idade.
- B) a pessoa até oito anos incompletos de idade.
- C) a pessoa até 12 anos incompletos de idade.
- D) a pessoa até 18 anos incompletos de idade.

5) A BNCC (Base Nacional Comum Curricular) afirma que o ensino fundamental no contexto da educação básica é a etapa mais longa, atendendo estudantes entre 6 e 14 anos. Pode-se afirmar que essa etapa tem quanto tempo de duração?

- A) Sete anos de duração.
- B) Nove anos de duração.
- C) Oito anos de duração.
- D) Dez anos de duração.

6) Sobre a educação inclusiva nas escolas assinale a alternativa correta:

- A) Escola inclusiva é, aquela que garante a qualidade de ensino educacional a cada um de seus alunos, reconhecendo e respeitando a diversidade e respondendo a cada um de acordo com suas potencialidades e necessidades;
- B) A escola somente poderá ser considerada inclusiva quando tiver direcionada para tratar os alunos de forma indiferente em todos os aspectos;
- C) A escola é aquela que garante a preferência no ensino educacional aos alunos destaque, tratando todos de forma genérica sem haver necessidade de tratamento diferenciado em nenhum aspecto;
- D) Em toda escola inclusiva, o aluno está sujeito a segregação, de modo a garantir a sua caminhada no processo de aprendizagem e de construção das competências necessárias para o exercício pleno da cidadania.

7) Sobre a prática do planejamento, analise as afirmativas e marque (V) para as VERDADEIRAS e (F) para as FALSAS.

Planejar assume várias dimensões e necessita:

- ser uma ação reflexiva, viva e contínua.
- ser uma atividade constante de avaliação e revisão sobre o desempenho docente.
- ser um ato decisório de estratégias, opções metodológicas e teóricas sem considerar o contexto educacional.
- prever ações que garantam a coerência, a continuidade e o sentido do trabalho pedagógico.
- assegurar a inflexibilidade do processo por meio da rejeição do replanejamento considerando resultados alcançados.

Marque a opção que apresenta a sequência CORRETA.

- A) V – V – V – F – F.
- B) F – V – F – F – V.
- C) F – F – V – V – F.
- D) V – V – F – V – F

8) O Atletismo é o conjunto de esportes formado por três modalidades. São elas?

- A) Corrida, lançamentos e saltos.
- B) Futebol, lançamentos e saltos.
- C) Corrida, natação e salto.
- D) Corrida, lançamento e handebol.

9) Qual das alternativas abaixo se refere a uma habilidade motora fina?

- A) Caminhar.
- B) Pular.
- C) Desenhar.
- D) Saltitar.

10) O Currículo Referência de Minas Gerais, em consonância com a BNCC, no Ensino Fundamental, estrutura-se em Áreas do Conhecimento. A disciplina de Educação Física está no conjunto da área de:

- A) Matemática.
- B) Ciências da natureza.
- C) Linguagens.
- D) Ciências Humanas.

11) O esporte como meio de democratização visa assegurar:

- A) a igualdade de acesso à prática esportiva para todas as pessoas.
- B) acesso à prática esportiva para as pessoas portadoras de necessidades especiais.
- C) a obrigatoriedade da Educação Física em todas as séries escolares.
- D) a prática da Educação Física nas séries iniciais da educação básica.

12) A Educação Física é uma disciplina que trata, pedagogicamente, na escola, do conhecimento de uma área denominada:

- A) cultura corporal.
- B) esporte.
- C) equipes desportivas.
- D) ginástica.

13) Em relação às terminologias utilizadas em Educação Física e seus significados, correlacione as colunas 1 e 2.

#### Coluna 1

1. Agilidade
2. Flexibilidade.
3. Alongamento
4. Adução
5. Abdução

#### Coluna 2

- ( ) Graus de movimento apresentados por uma articulação em diversas direções.
- ( ) Extensão do músculo além do seu comprimento em repouso.
- ( ) Afastar um membro, ou parte dele, do plano médico (eixo mediano).
- ( ) Trazer um membro, ou parte dele, ao plano médico (eixo mediano).
- ( ) Capacidade de corpo todo, ou parte dele, mudar rapidamente de posição e direção.

Assinale a alternativa que indica a sequência CORRETA.

- A) 3, 1, 2, 5,4
- B) 2, 3, 5, 4, 1
- C) 5, 4, 1, 3, 2
- D) 1, 4, 5, 3, 2

14) É correto afirmar que é tarefa da Educação Física Escolar:

- A) desenvolver, através da ginástica, o conceito de nacionalidade.
- B) contribuir para a construção de um estilo pessoal às práticas da cultura corporal.
- C) proporcionar o adestramento do corpo preparando para as tarefas desportivas.
- D) propiciar o controle de grupos de trabalho e processo disciplinar.

15) É correto afirmar que o professor de Educação Física, quando apresenta as regras de um novo jogo ou desporto em uma aula, está trabalhando a organização de seu conteúdo a partir da categoria:

- A) procedimental.
- B) atitudinal.
- C) conceitual.
- D) universal.

## LÍNGUA PORTUGUESA

16) As palavras abaixo apresentam dígrafos, EXCETO:

- A) Milhares.
- B) Sequer.
- C) Família.
- D) Pessoa.

17) Assinale a alternativa em que o uso do artigo está substantivando uma palavra.

- A) A liberdade vai marcar a poesia social de Castro Alves.
- B) Leitor perspicaz é aquele que consegue ler as entrelinhas.
- C) A navalha ia e vinha no couro esticado.
- D) Haroldo ficou encantado com o andar de bailado de Joana.

18) Assinale a alternativa que contém verbo:

- A) Brincar.
- B) Morango.
- C) Instrumento.
- D) Triste.


19) Assinale a alternativa que preenche, correta e respectivamente, as lacunas do trecho a seguir, de acordo com a norma-padrão.

Além disso, \_\_\_\_\_ certamente \_\_\_\_\_ entre nós \_\_\_\_\_ do fenômeno da corrupção e das fraudes.

- A) a ... consenso ... acerca
- B) há ...consenso ... acerca
- C) a .. consenso ...a cerca
- D) a ...consenso ...há cerca

20) Considere o cartum de Douglas Vieira.

## TELEVISÃO



(<http://iiiconcursodecartumuniversitario.blogspot.com.br>. Adaptado)

É correto concluir que, de acordo com o cartum,

- A) os tipos de entretenimento disponibilizados pelo livro ou pela TV são equivalentes.
- B) o livro, em comparação com a TV, leva a uma imaginação mais ativa.
- C) o indivíduo que prefere ler a assistir televisão é alguém que não sabe se distrair.
- D) a leitura de um bom livro é tão instrutiva quanto assistir a um programa de televisão.

21) “Cadáver” é paroxítona, pois:

- A) Têm a última sílaba como tônica.
- B) Não têm sílaba tônica.
- C) Tem a antepenúltima sílaba como tônica.
- D) Tem a penúltima sílaba como tônica.

22) Indique a alternativa em que a flexão do substantivo está errada:

- A) Catalães.
- B) Cidadãos.
- C) Vulcães.
- D) Corrimões.

23) Em “ O resultado da **experiência** foi, literalmente, aterrador. ” A palavra destacada encontra-se acentuada pelo mesmo motivo que:

- A) Túnel
- B) Voluntário
- C) Até
- D) Rótulos

24) Assinale a alternativa em que todas as palavras estão grafadas corretamente:

- A) paralisar, pesquisar, ironizar, trabalhar.
- B) alteza, empreza, francesa, miudeza.
- C) incenso, progreço, obsessão, luchação.
- D) chineza, marquês, gogumelo, mulher.

25) Leia o texto a seguir para responder à questão abaixo.

MOSTRE QUE SUA MEMÓRIA É MELHOR DO QUE A DE UM COMPUTADOR E  
GUARDE ESTA CONDIÇÃO: 12X SEM JUROS.

Revista época. Nº424, 03jul.2006.

Ao circularem socialmente, os textos realizam-se como práticas de linguagem, assumindo funções específicas, formais e de conteúdo. Considerando o contexto em que circula o texto publicitário, seu objetivo básico é?

- A) Definir regras de comportamento social pautadas no combate ao consumismo exagerado.
- B) Influenciar o comportamento do leitor, por meio de apelos que visam à adesão ao consumo.
- C) Defender a importância do conhecimento de informática pela população de baixo poder aquisitivo.
- D) Facilitar o uso de equipamentos de informática pelas classes sociais economicamente desfavorecidas.

## MATEMÁTICA

26) A partir de 1º de março, uma cantina escolar adotou um sistema de recebimento por cartão eletrônico. Esse cartão funciona como uma conta corrente: coloca-se crédito e vão sendo debitados os gastos. É possível o saldo negativo. Lucas toma lanche diariamente na cantina e sua mãe credita valores no cartão todas as semanas. Ao final de março, ele anotou o seu consumo e os pagamentos na seguinte tabela:

Semanas	Valor Gasto	Valor Creditado
1ª semana	R\$ 27,00	R\$ 40,00
2ª semana	R\$ 33,00	R\$ 30,00
3ª semana	R\$ 42,00	R\$ 35,00
4ª semana	R\$ 25,00	R\$ 15,00

No final do mês, Lucas observou que tinha:

- A) crédito de R\$ 7,00.
- B) débito de R\$ 5,00.
- C) crédito de R\$ 5,00.
- D) débito de R\$ 7,00.

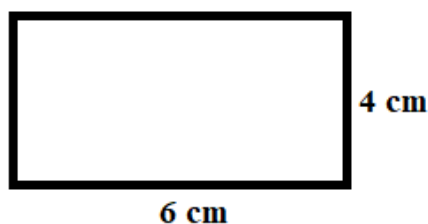
27) Para zelar pelos jovens internados e orientá-los a respeito do uso adequado dos materiais em geral e dos recursos utilizados em atividades educativas, bem como da preservação predial, realizou-se uma dinâmica elencando “atitudes positivas” e “atitudes negativas”, no entendimento dos elementos do grupo. Solicitou-se que cada um classificasse suas atitudes como positiva ou negativa, atribuindo (+4) pontos para cada atitude positiva e (-1) a cada atitude negativa. Se um jovem classificou como positiva apenas 20 das 50 atitudes anotadas, o total de pontos atribuídos foi:

- A) 50.
- B) 45.
- C) 42.
- D) 36.

28) Um título foi pago com 10% de desconto sobre o valor total. Sabendo-se que o valor pago foi de R\$315,00, é correto afirmar que o valor total desse título era de :

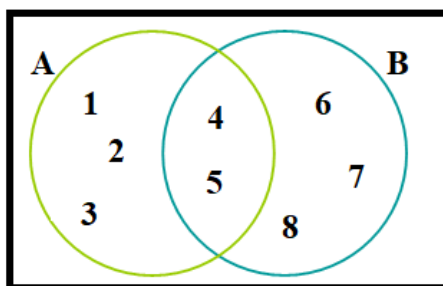
- A) R\$ 345,00.
- B) R\$ 346,50.
- C) R\$ 350,00.
- D) R\$ 358,50.

29) Qual é a área do retângulo abaixo?



- A) 10 cm<sup>2</sup>.
- B) 24 cm<sup>2</sup>.
- C) 20 cm<sup>2</sup>.
- D) 15 cm<sup>2</sup>.

30) Observando o diagrama abaixo marque a resposta INCORRETA:



- A)  $A \cup B = \{1, 2, 3, 4, 5, 6, 7, 8\}$
- B)  $A - B = \{1, 2, 3\}$
- C) O conjunto B é formado pelos seguintes elementos:  $\{4, 5, 6, 7, 8\}$
- D)  $A \cap B = \{1, 3\}$



**PROCESSO SELETIVO Nº 01/2021**  
**PROFESSOR DE EDUCAÇÃO FÍSICA**  
**GABARITO PROVISÓRIO**

01	02	03	04	05	06	07	08	09	10	11	12	13	14	15
<b>D</b>	<b>B</b>	<b>D</b>	<b>C</b>	<b>B</b>	<b>A</b>	<b>D</b>	<b>A</b>	<b>C</b>	<b>C</b>	<b>A</b>	<b>A</b>	<b>B</b>	<b>B</b>	<b>C</b>

16	17	18	19	20	21	22	23	24	25	26	27	28	29	30
<b>C</b>	<b>D</b>	<b>A</b>	<b>B</b>	<b>B</b>	<b>D</b>	<b>C</b>	<b>B</b>	<b>A</b>	<b>B</b>	<b>D</b>	<b>A</b>	<b>C</b>	<b>B</b>	<b>D</b>