

LÍNGUA PORTUGUESA

Motorista

Leia a tirinha e responda à questões 1 e 2:



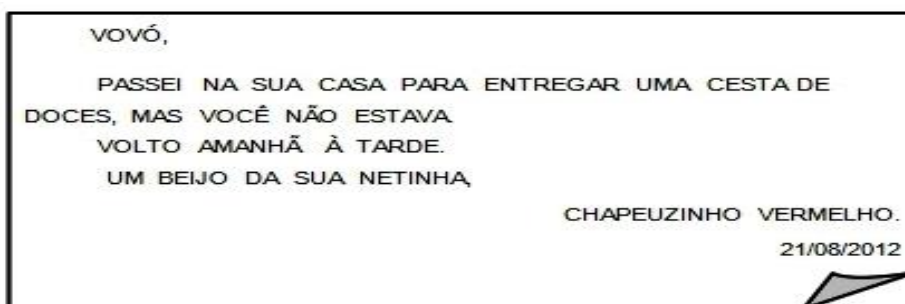
1) DE ACORDO COM A TIRINHA, A MÔNICA PAROU O CARRINHO PORQUÊ?

- A) Estava com medo de cair
- B) Estava com medo da montanha
- C) Estava com medo do rato
- D) Estava com medo dos amigos

2) Quantas pessoas estavam no carrinho?

- A) cinco
- B) três
- C) uma
- D) duas

Leia o texto e marque as respostas corretas, nas questões 3 e 4:



3) O assunto principal do bilhete é?

- A) Avisar
- B) Convidar
- C) Vender doces
- D) Despedir

4) Indique a opção em que a separação silábica da palavra chapeuzinho está correta:

- A) Cha – pe – u – zi – nho
- B) Cha – peu – zi – nho
- C) Cha – pe – uzi – nho
- D) Cha – peuzi – nho

LEIA O TEXTO ABAIXO E RESPONDA AS QUESTÕES ,6,7 e 8:

A SANFONA DE CHICO BENTO

Chico Bento é um menino muito animado. Ele tem uma sanfona muito bonita.

Chico Bento sabe tocar sanfona muito bem. Ele até foi convidado para tocar sanfona na festa da escola.

Todos bateram palmas para Chico Bento. Chico Bento ficou muito feliz.



5) Qual o título do texto:

- A) Chico Bento e a sanfona
- B) A sanfona e o menino
- C) A sanfona de Chico Bento
- D) O menino da sanfona

6) Chico Bento foi convidado para tocar na festa da escola porquê?

- A) ele tem uma sanfona muito bonita
- B) ele sabe tocar sanfona muito bem
- C) sua sanfona é diferente
- D) ninguém sabe tocar como ele

7) Na frase “Chico Bento é um menino muito **animado**”. A palavra em destaque é considerada um:

- A) substantivo
- B) adjetivo
- C) verbo
- D) pronome

8) Observe a imagem abaixo e responda a questão:



Copyright © 2002 Mauricio de Sousa Produções Ltda. Todos os direitos reservados.

Além de Chico Bento quem é o outro personagem do texto:

- A) Supervisora
- B) Professora
- C) Diretora
- D) Eventual

MATEMÁTICA

9) Qual o valor da soma abaixo:



- A) R\$ 207,00
- B) R\$ 146,00
- C) R\$ 188,00
- D) R\$ 198,00

Observe o quadro abaixo e responda as questões 2 e 3:



e



e



10). Qual o valor da soma em dinheiro das 4 crianças juntas?

- A) R\$ 95,00
- B) R\$ 49,00
- C) R\$ 59,00
- D) R\$ 105,00

11) Quem tem menos dinheiro?

- A) Uirá
- B) Ana
- C) Rita
- D) Raimundo

12) Claudio ganhou uma nota de R\$ 20,00 e trocou por moedas de R\$ 0,50, para colocar em seu cofre. Quantas moedas ele recebeu nesta troca?


- A) 10
- B) 20
- C) 40
- D) 28

13) Marcos ganhou uma nota de R\$ 50,00 de seu pai. Ele usou esta nota para comprar um brinquedo que custava R\$ 35,00. Nesta compra, quanto Marcos recebeu de troco?

- A) R\$ 25,00
- B) R\$ 45,00
- C) R\$ 35,00
- D) R\$ 15,00


14) Um ônibus leva 68 pessoas em cada viagem. Ao final de 6 viagens quantas pessoas ele terá levado?

- A) 515
- B) 480
- C) 264
- D) 408



15).Observe o relógio abaixo e marque a alternativa que corresponde a hora que ele está indicando:

- A) 10 horas e 2 minutos
- B) 2 horas e 50 minutos
- C) 10 horas e 10 minutos
- D) 2 horas e 10 minutos



PROCESSO
SELETIVO N° 03/2021
MOTORISTA DE
AMBULANCIA

01	02	03	04	05	06	07	08	09	10
C	B	A	B	C	B	B	B	C	C

11	12	13	14	15
B	C	D	D	C

