



**PREFEITURA MUNICIPAL DE MONTE BELO**  
**ESTADO DE MINAS GERAIS**

**PROCESSO SELETIVO Nº 004/2021**

**CADERNO DE PROVAS**

**VIGIA**

NOME DO CANDIDATO: \_\_\_\_\_

- Você recebeu sua folha de resposta e este caderno contendo 30 questões objetivas.
- Quando for permitido abrir o caderno, verifique se está completo ou se apresenta imperfeições. Caso haja algum problema, informe ao fiscal da sala.
- Leia atentamente todas as questões e escolha a resposta que você considera correta.
- Marque na folha do gabarito com caneta azul ou preta, a letra correspondente à alternativa que você escolheu.
- A duração da prova é de 3 horas, já incluindo o tempo para o preenchimento do gabarito.
- Só será permitida a saída da sala e do prédio após transcorridos 30 minutos do início da prova.
- Os três últimos candidatos devem permanecer na sala até que o último candidato entregue seu caderno de questões e folha de respostas. Os mesmos deverão assinar a ata de ocorrências.
- Ao sair, você entregará ao fiscal a folha de respostas assinada e este caderno com todas as páginas rubricadas, podendo levar apenas o rascunho de gabarito, localizado abaixo, para futura conferência.
- Até que você saia do prédio, todas as proibições e orientações continuam válidas.

**AGUARDE A ORDEM DO FISCAL PARA ABRIR ESTE CADERNO DE PROVA**

LEIA O TEXTO ABAIXO E RESPONDA AS QUESTÕES 1, 2 e 3:

### A carroça

Certa manhã, meu pai, muito sábio, convidou-me para dar um passeio no bosque e eu aceitei com prazer.

Após algum tempo, ele se deteve numa clareira e, depois de um pequeno silêncio, me perguntou:

— Além do canto dos pássaros, você está ouvindo mais alguma coisa?

Apurei os ouvidos alguns segundos e respondi:

— Estou ouvindo um barulho de carroça.

— Isso mesmo – disse meu pai – e é uma carroça vazia!

Perguntei a ele:

— Como pode saber que a carroça está vazia, se ainda não a vimos?

— Ora – respondeu meu pai – é muito fácil saber que uma carroça está vazia por causa do barulho. Quanto mais vazia a carroça, maior é o barulho que faz.

Tornei-me adulto e até hoje, quando vejo uma pessoa falando demais, gritando, tratando o próximo com grosseria, interrompendo a conversa de todo mundo e querendo demonstrar ser o dono da razão, tenho a impressão de ouvir a voz do meu pai dizendo:

— Quanto mais vazia a carroça, mais barulho ela faz!

#### 1) Esse texto é

- A) um conto.
- B) uma fábula.
- C) uma lenda.
- D) uma notícia


#### 2) Nesse texto, compreende-se que o filho

- A) andou em uma carroça vazia.
- B) aprendeu um ensinamento de seu pai.
- C) recebeu um castigo de seu pai.
- D) revelou ser desobediente.

3) De acordo com o texto, o pai convidou o filho para dar um passeio

- A) na cidade.
- B) na fazenda.
- C) na praia.
- D) no bosque.

4) LEIA A TIRINHA ABaixo E RESPONDA::



No terceiro quadrinho da tirinha, compreende-se que o garoto

- A) demonstra irritação
- B) não consegue estudar
- C) não gosta de barulho
- D) teve uma idéia

5) LEIA A TIRINHA ABaixo E RESPONDA:



NESSE TRECHO O GAROTO ESTAVA RECLAMANDO PORQUÊ?

- A) não gostava da professora
- B) ficou irritado com o Zé Lelé
- C) tirou nota diferente do Zé Lelé
- D) as crianças tem direito de reclamar

**6) LEIA A LISTA COM O NOME DOS RESPONSÁVEIS PELA LIMPEZA DA SALA E RESPONDA:**

1. ALICE

2. DAVI

3. MARISA

4.

5. ROSANA

**Seguindo a ordem alfabética, o nome que falta na lista é:**

- A) Bruno
- B) Lucas
- C) Pedro
- D) Tiago

**7) OBSERVANDO ESTE CARTAZ POSSO CONCLUIR:**



- A) O mosquito é nosso amigo
- B) O mosquito não transmite a Dengue
- C) O mosquito transmite Dengue
- D) O mosquito não traz perigo nenhum

**LEIA O TEXTO ABAIXO E RESPONDA AS QUESTÕES 8 E 9:**

**URSO POLAR**

O urso polar é um animal mamífero grande e muito bonito. Ele vive em ambiente com muito gelo e neve. Não tem problema com o frio, porque possui uma pele muito grossa e peluda.

**8) O urso polar não sente frio porque:**

- A) sabe se proteger corretamente
- B) possui uma pele grossa e peluda
- C) tem sangue quente
- D) vive em ambiente muito quente

**9) Onde o urso polar vive?**

- A) em um ambiente quente
- B) em um ambiente com um pouco de gelo
- C) em um ambiente com muito gelo
- D) em um ambiente seco

**10) OBSERVE A FIGURA E RESPONDA:**



**As crianças estão brincando de:**

- A) pipa
- B) corda
- C) roda
- D) pião

**11) LEIA O TEXTO E RESPONDA:**



**Quem bate no touro?**

- A) O buraco.
- B) O cachimbo
- C) O mundo.
- D) A gente.

**12) LEIA O TEXTO E RESPONDA:**



Disponível em [HTTP://www.grupoa.com.br/blogA/Post/2012/04/23/O-que-aleitura-significa-para-você.aspx](http://www.grupoa.com.br/blogA/Post/2012/04/23/O-que-aleitura-significa-para-você.aspx)

**A imagem do coração, no centro do cartaz, está no lugar da palavra:**

- A) Amo
- B) Pulo
- C) Corro
- D) Brinco

**13) LEIA A TIRINHA E RESPONDA:**



**A língua para fora e o suor respingando no rosto das personagens demonstram que eles**

- A) estão cansados.
- B) estão famintos.
- C) estão com sono.
- D) estão com sede.

14) Veja a palavra:

SACOLA

Marque a opção onde aparece a palavra que você viu escrita de outra forma.

- A) SACADA
- B) SALADA
- C) SACOLA
- D) SALIVA

15) A PALAVRA QUE TEM A SILABA DO MEIO IGUAL A PALAVRA **BONECA** É:

- A) CARECA
- B) PETECA
- C) CANECA
- D) MOLECA

## MATEMÁTICA:

### 16) LEIA O TEXTO E RESPONDA:

#### TUCANO

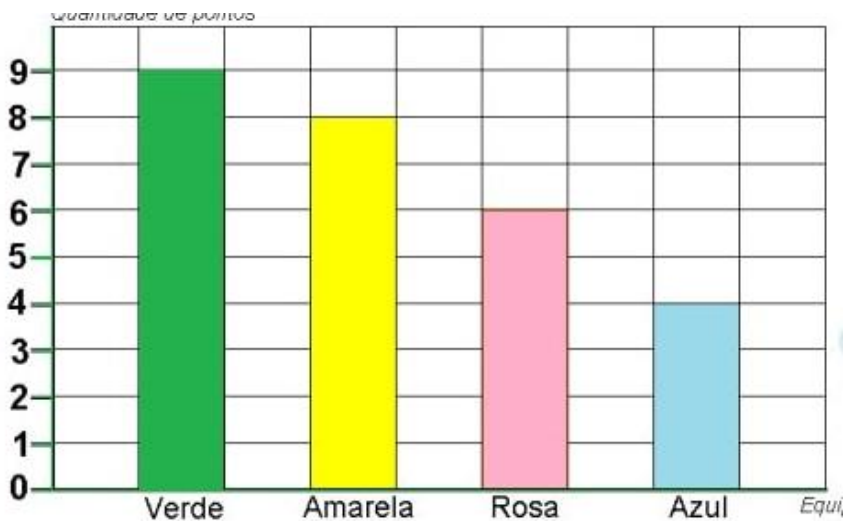
Os tucanos fazem ninhos nos ocos das árvores e as fêmeas botam de dois a quatro ovos por vez. Durante 18 dias, elas chocam os ovinhos no ninho.

Os filhotinhos de tucano nascem sem penas e ficam por um bom tempo no ninho: por 40 dias, eles são alimentados pela mamãe tucano. Existem muitas espécies de tucanos no Brasil.

De acordo com esse texto, as fêmeas de tucanos chocam os ovos durante

- A) 2 dias.
- B) 4 dias.
- C) 18 dias.
- D) 40 dias.

### 17) OBSERVE NA TABELA O TOTAL DE PONTOS FEITOS POR CADA EQUIPE EM UMA BRINCADEIRA E RESPONDA:



Qual equipe fez mais pontos?

- A) amarela
- B) verde
- C) rosa
- D) azul



Uma professora organizou seus alunos para sair para o recreio. Observe a cena e responda as questões 18 e 19:



18) Quantas crianças estão na frente de João na fila?

- A) 5
- B) 4
- C) 3
- D) 6

19) Quem está imediatamente atrás de Alice?

- A) João
- B) Filipe
- C) Enzo
- D) Ana

20) Na biblioteca da escola, existe uma estante com 3 dezenas de livros de poesia. Acontecerá um festival de poesias na escola e a diretora resolveu comprar mais 10 livros.

Quantos livros de poesia terá na biblioteca?

- A) 15 livros
- B) 41 livros
- C) 40 livros
- D) 30 livros

21) Ruan saiu de casa com 18 bolinhas de gude e quando voltou percebeu que tinha somente 7 bolinhas.

Quantas bolinhas de gude ele perdeu?

- A) 18 bolinhas
- B) 13 bolinhas
- C) 12 bolinhas
- D) 11 bolinhas

22) Com relação a valor posicional, quanto vale o algarismo **2** no numeral **2630**?

- A) 2
- B) 200
- C) 2000
- D) 20

23) Em uma semana, a Sala de Leitura da escola recebeu 4 caixas com 17 livros em cada:



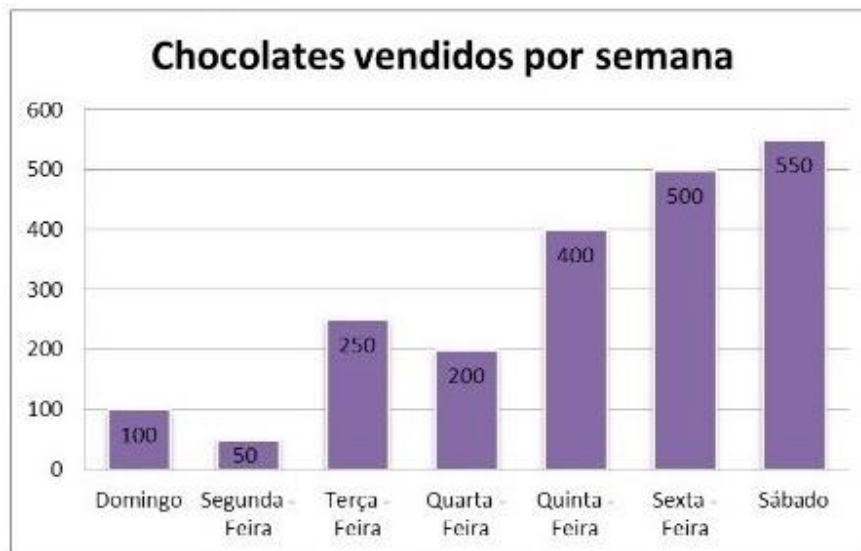
- A) 58
- B) 68
- C) 57
- D) 21

24) Para despertar o gosto e o prazer pela leitura, a bibliotecária de uma escola desenvolveu um projeto com o tema “ Livro Diversão e Prazer”. Como forma de incentivo, cada criança leitora recebeu um cupom para participar do sorteio de alguns livros.

Veja no mural os números dos cupons que foram sorteados:

An illustration of five children (three girls and two boys) holding a large blue sign. The sign contains the following numbers in red: 35, 41, 68, 124, 96, 423, 200, 87, 132, 349.	<p><b>Dos números sorteados, assinale somente a sequência dos números pares:</b></p> <ul style="list-style-type: none"><li>A) 35 – 124 – 41 – 423 – 349</li><li>B) 124 – 200 – 132 – 96 – 68</li><li>C) 35 – 41 – 423 – 124 – 349</li><li>D) 200 – 35 – 349 – 41 – 423</li></ul>
-------------------------------------------------------------------------------------------------------------------------------------------------------------------------------------	----------------------------------------------------------------------------------------------------------------------------------------------------------------------------------------------------------------------------------------------------------------------------------

OBSERVE O GRÁFICO ABAIXO E RESPONDA 25, 26 e 27:



**25) Qual foi o dia que vendeu mais chocolate?**

- A) Sexta-feira
- B) Sábado
- C) Terça-feira
- D) Quinta-feira

**26) Qual o total de chocolates vendidos durante toda a semana?**

- A) 2500
- B) 1050
- C) 2550
- D) 2050

**27) Quantos chocolates foram vendidos nos 3 primeiros dias?**

- A) 350
- B) 450
- C) 400
- D) 500

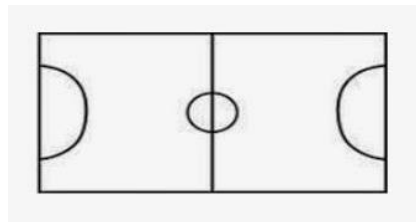
28) João vendeu uma bicicleta para seu amigo Paulo e preencheu um recibo com o valor da venda. Observe o recibo e responda:

RECIBO DE PAGAMENTO	
Número do Recibo	3
Valor	150,00
Recebemos de:	PAULO SANTOS
Endereço:	RUA DAS FLORES, 255
A importância de:	CENTO E CINQUENTA REAIS
Referente à:	RECIBO DE COMPRA DE UMA BICICLETA
Para maior clareza firmamos o presente.	
ALTA FLORESTA - MT. 01 dia(s) do mês de outubro do ano de 2009	
Emitente:	JOÃO SANTOS
Endereço:	RUA DAS FLORES 125
Assinatura:	
C.N.P.J.: 00.000.000/0000-00	

Qual o valor que Paulo pagou pela bicicleta?

- A) 3,00
- B) 15,00
- C) 1500,00
- D) 150,00

29) Observe o campo de futebol de botão que Juca ganhou de presente de aniversário.

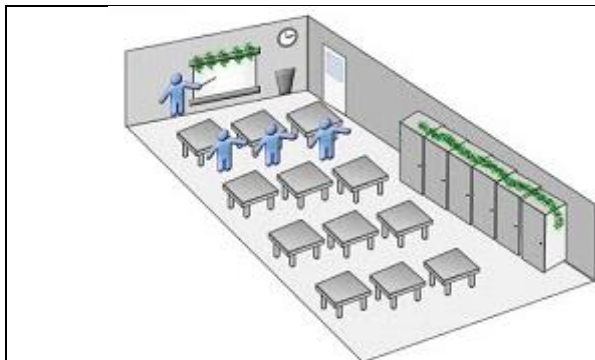


A forma do campo é:

- A) quadrado
- B) retângulo
- C) triângulo
- D) círculo

30) OBSERVE E RESPONDA:

Na sala de aula há 3 fileiras de carteiras com 4 carteiras em cada fila.



Quantas carteiras há na sala?

- A) 21
- B) 14
- C) 7
- D) 12

PROCESSO SELETIVO Nº004/2021

GABARITO

**VIGIA**

01	02	03	04	05	06	07	08	09	10
<b>A</b>	<b>B</b>	<b>D</b>	<b>D</b>	<b>C</b>	<b>C</b>	<b>C</b>	<b>B</b>	<b>C</b>	<b>C</b>

11	12	13	14	15	16	17	18	19	20
<b>B</b>	<b>A</b>	<b>A</b>	<b>C</b>	<b>C</b>	<b>C</b>	<b>B</b>	<b>B</b>	<b>C</b>	<b>C</b>

21	22	23	24	25	26	27	28	29	30
<b>D</b>	<b>C</b>	<b>B</b>	<b>B</b>	<b>B</b>	<b>D</b>	<b>C</b>	<b>D</b>	<b>B</b>	<b>D</b>