



PREFEITURA MUNICIPAL DE MONTE BELO
ESTADO DE MINAS GERAIS

PROCESSO SELETIVO Nº 004/2021

CADERNO DE PROVAS

OPERADOR DE MÁQUINAS PESADAS

NOME DO CANDIDATO: _____

- Você recebeu sua folha de resposta e este caderno contendo 30 questões objetivas.
- Quando for permitido abrir o caderno, verifique se está completo ou se apresenta imperfeições. Caso haja algum problema, informe ao fiscal da sala.
- Leia atentamente todas as questões e escolha a resposta que você considera correta.
- Marque na folha do gabarito com caneta azul ou preta, a letra correspondente à alternativa que você escolheu.
- A duração da prova é de 3 horas, já incluindo o tempo para o preenchimento do gabarito.
- Só será permitida a saída da sala e do prédio após transcorridos 30 minutos do início da prova.
- Os três últimos candidatos devem permanecer na sala até que o último candidato entregue seu caderno de questões e folha de respostas. Os mesmos deverão assinar a ata de ocorrências.
- Ao sair, você entregará ao fiscal a folha de respostas assinada e este caderno com todas as páginas rubricadas, podendo levar apenas o rascunho de gabarito, localizado abaixo, para futura conferência.
- Até que você saia do prédio, todas as proibições e orientações continuam válidas.

AGUARDE A ORDEM DO FISCAL PARA ABRIR ESTE CADERNO DE PROVA

LEIA O TEXTO ABAIXO E RESPONDA AS QUESTÕES 1, 2 e 3:

A carroça

Certa manhã, meu pai, muito sábio, convidou-me para dar um passeio no bosque e eu aceitei com prazer.

Após algum tempo, ele se deteve numa clareira e, depois de um pequeno silêncio, me perguntou:

— Além do canto dos pássaros, você está ouvindo mais alguma coisa?

Apurei os ouvidos alguns segundos e respondi:

— Estou ouvindo um barulho de carroça.

— Isso mesmo – disse meu pai – e é uma carroça vazia!

Perguntei a ele:

— Como pode saber que a carroça está vazia, se ainda não a vimos?

— Ora – respondeu meu pai – é muito fácil saber que uma carroça está vazia por causa do barulho. Quanto mais vazia a carroça, maior é o barulho que faz.

Tornei-me adulto e até hoje, quando vejo uma pessoa falando demais, gritando, tratando o próximo com grosseria, interrompendo a conversa de todo mundo e querendo demonstrar ser o dono da razão, tenho a impressão de ouvir a voz do meu pai dizendo:

— Quanto mais vazia a carroça, mais barulho ela faz!

1) Esse texto é

- A) um conto.
- B) uma fábula.
- C) uma lenda.
- D) uma notícia

2) Nesse texto, compreende-se que o filho


- A) andou em uma carroça vazia.
- B) aprendeu um ensinamento de seu pai.
- C) recebeu um castigo de seu pai.
- D) revelou ser desobediente.

3) De acordo com o texto, o pai convidou o filho para dar um passeio

- A) na cidade.

- B) na fazenda.
- C) na praia.
- D) no bosque.

4) LEIA A TIRINHA ABAIXO E RESPONDA::



No terceiro quadrinho da tirinha, compreende-se que o garoto

- A) demonstra irritação
- B) não consegue estudar
- C) não gosta de barulho
- D) teve uma idéia

5) LEIA A TIRINHA ABAIXO E RESPONDA:



NESSE TRECHO O GAROTO ESTAVA RECLAMANDO PORQUÊ?

- A) não gostava da professora
- B) ficou irritado com o Zé Lelé
- C) tirou nota diferente do Zé Lelé
- D) as crianças tem direito de reclamar

6) OBSERVE A FIGURA E RESPONDA:



As crianças estão brincando de:

- A) pipa
- B) corda
- C) roda
- D) pião

7) LEIA O TEXTO E RESPONDA:



Quem bate no touro?

- A) O buraco.
- B) O cachimbo
- C) O mundo.
- D) A gente.

8) LEIA O TEXTO E RESPONDA:



Disponível em [HTTP://www.grupoa.com.br/blogA/Post/2012/04/23/O-que-aleitura-significa-para-você.aspx](http://www.grupoa.com.br/blogA/Post/2012/04/23/O-que-aleitura-significa-para-você.aspx)

A imagem do coração, no centro do cartaz, está no lugar da palavra:

- A) Amo
- B) Pulo
- C) Corro
- D) Brinco

MATEMÁTICA:

9) LEIA O TEXTO E RESPONDA:

TUCANO

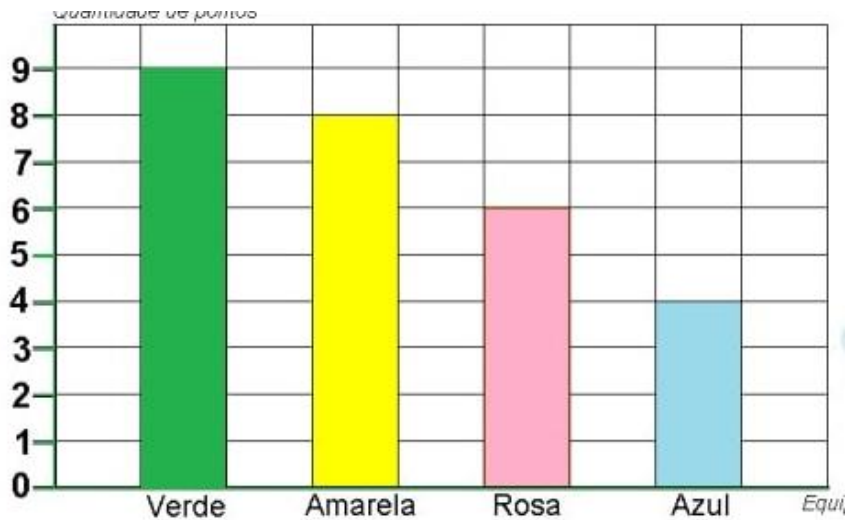
Os tucanos fazem ninhos nos ocos das árvores e as fêmeas botam de dois a quatro ovos por vez. Durante 18 dias, elas chocam os ovinhos no ninho.

Os filhotinhos de tucano nascem sem penas e ficam por um bom tempo no ninho: por 40 dias, eles são alimentados pela mamãe tucano. Existem muitas espécies de tucanos no Brasil.

De acordo com esse texto, as fêmeas de tucanos chocam os ovos durante

- A) 2 dias.
- B) 4 dias.
- C) 18 dias.
- D) 40 dias.

10) OBSERVE NA TABELA O TOTAL DE PONTOS FEITOS POR CADA EQUIPE EM UMA BRINCADEIRA E RESPONDA:



Qual equipe fez mais pontos?

- A) amarela
- B) verde
- C) rosa
- D) azul

11) Com relação a valor posicional, quanto vale o algarismo **2** no numeral **2630**?

- A) 2
- B) 200
- C) 2000
- D) 20

12) Em uma semana, a Sala de Leitura da escola recebeu 4 caixas com 17 livros em cada:

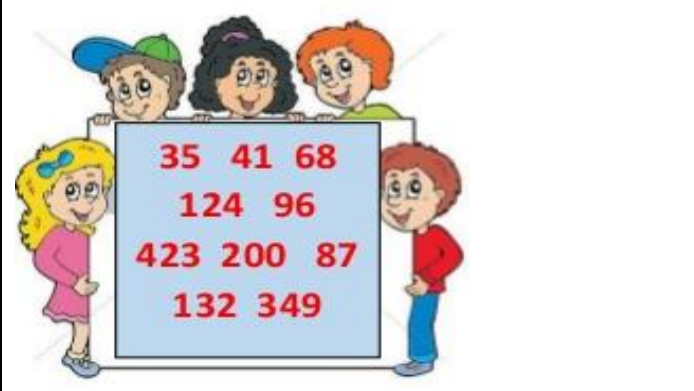


- A) 58
- B) 68
- C) 57

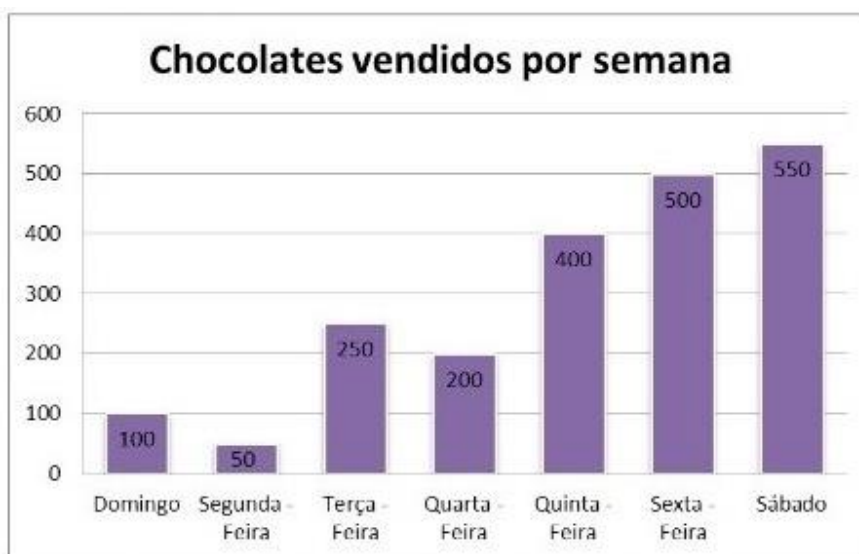
D) 21

13) Para despertar o gosto e o prazer pela leitura, a bibliotecária de uma escola desenvolveu um projeto com o tema “ Livro Diversão e Prazer”. Como forma de incentivo, cada criança leitora recebeu um cupom para participar do sorteio de alguns livros.

Veja no mural os números dos cupons que foram sorteados:

	<p>Dos números sorteados, assinale somente a sequência dos números pares:</p> <p>A) 35 – 124 – 41 – 423 – 349</p> <p>B) 124 – 200 – 132 – 96 – 68</p> <p>C) 35 – 41 – 423 – 124 – 349</p> <p>D) 200 – 35 – 349 – 41 – 423</p>
--	--

OBSERVE O GRÁFICO ABAIXO E RESPONDA 25, 26 e 27:

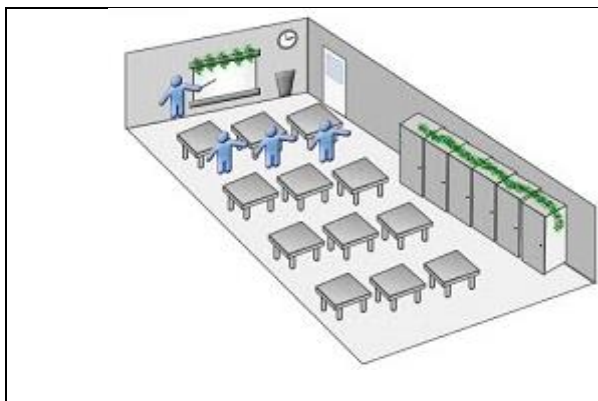


14) Qual foi o dia que vendeu mais chocolate?

- A) Sexta-feira
- B) Sábado
- C) Terça-feira
- D) Quinta-feira

15) OBSERVE E RESPONDA:

Na sala de aula há 3 fileiras de carteiras com 4 carteiras em cada fila.



Quantas carteiras há na sala?

A) 21

B) 14

C) 7

D) 12

PROCESSO SELETIVO Nº004/2021

GABARITO

OPERADOR DE MÁQUINAS PESADAS

01	02	03	04	05	06	07	08	09	10
A	B	D	D	C	C	B	A	C	B

11	12	13	14	15
C	B	B	B	D